


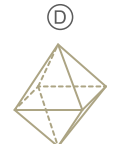
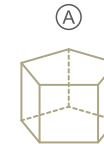

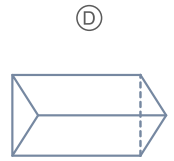
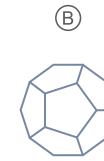
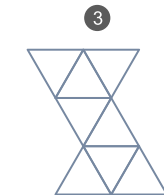
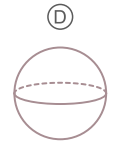
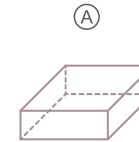
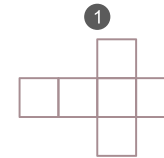


No es casualidad que los pilotos o los arquitectos tengan mejor orientación espacial que nadie: han trabajado esta habilidad durante toda su vida. Es por ello que no hay mapa, manual de instrucciones o nuevo artilugio que se les resista. Pero, lo dicho, es una cuestión de práctica...

01 Empieza a practicar ordenando estas figuras de mayor a menor.



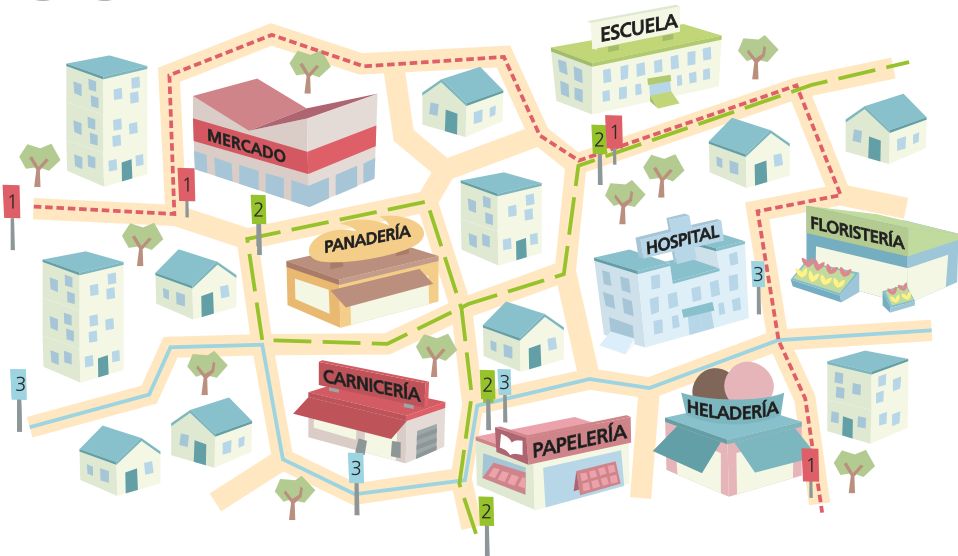
02 Vamos a subir un poco el nivel. Observa cada figura desplegada de la izquierda ¿A cuál de las 4 figuras geométricas de la derecha se corresponden?



“La vida empieza a los 50, lo anterior es sólo práctica”

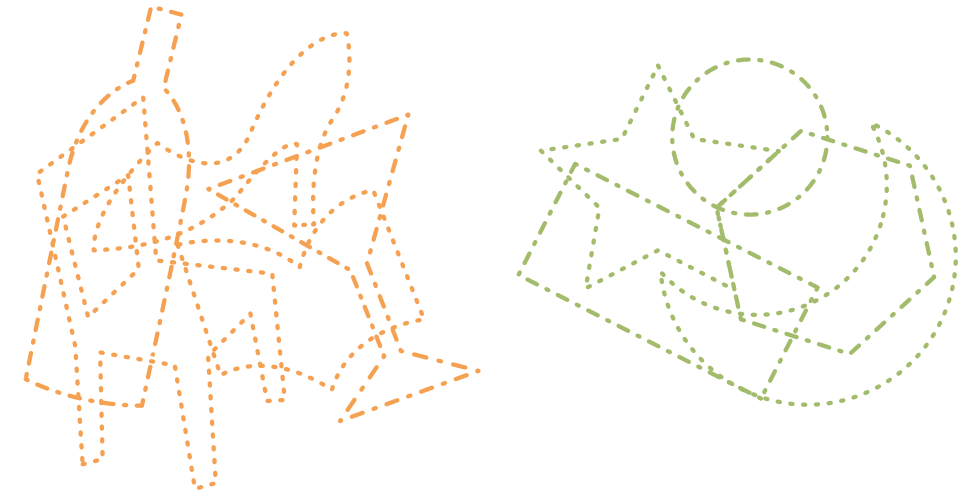
Anónimo

03 Observa el recorrido de las tres líneas de bus y completa las afirmaciones.



- 1. Las líneas que paran en el hospital son:
- 2. Desde el mercado cuenta las paradas que tienes que pasar hasta llegar a la heladería si vas en la línea roja.
- 3. Estoy en la heladería, debo coger la línea de color para llegar al mercado.
- 4. Desde la escuela necesito llegar a la línea azul, puedo llegar con las líneas
- 5. Cogeré la línea para llegar hasta la carnicería desde la escuela.
- 6. Número de paradas que debo pasar en la línea azul si subo en la carnicería y bajo en la floristería.
- 7. La línea verde coincide con la línea al pasar por detrás de la papelería.

04 Observa, identifica y escribe los objetos que están en esta imagen.



.....

.....

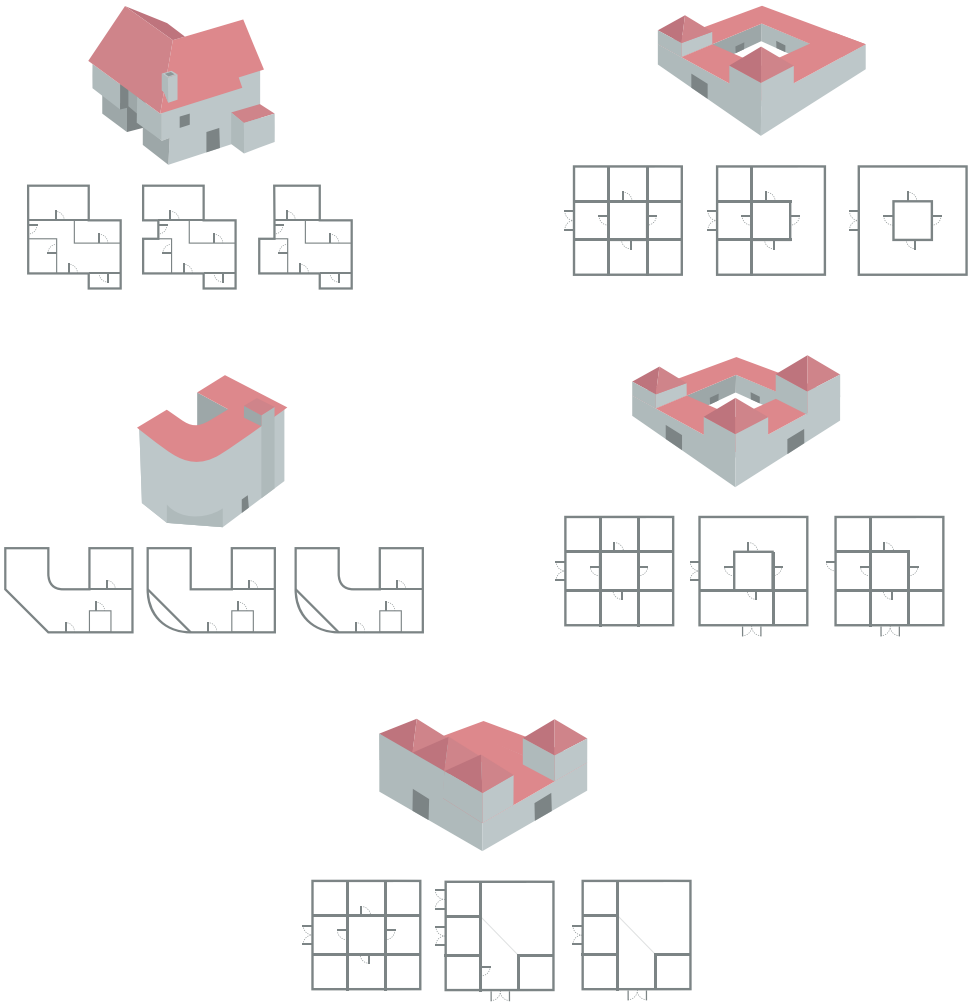
.....

.....

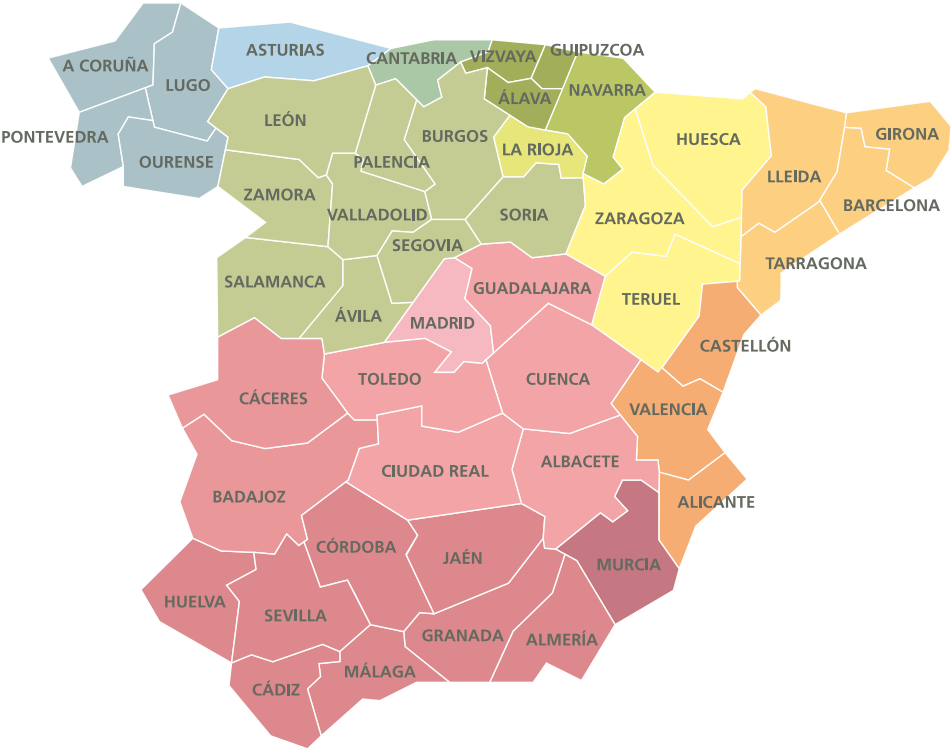
.....

.....

05 Tacha el plano que crees que representa cada una de las siguientes viviendas.



06 Observa el mapa de España y responde las preguntas:



- ¿Qué provincia está al sureste de Cuenca?
- ¿Qué provincia está al noreste de Tarragona?
- ¿Qué provincia está más al oeste?
- ¿Qué provincia está al norte de Ciudad Real?
- ¿Qué provincia está al sur de la provincia que está al este de Madrid?

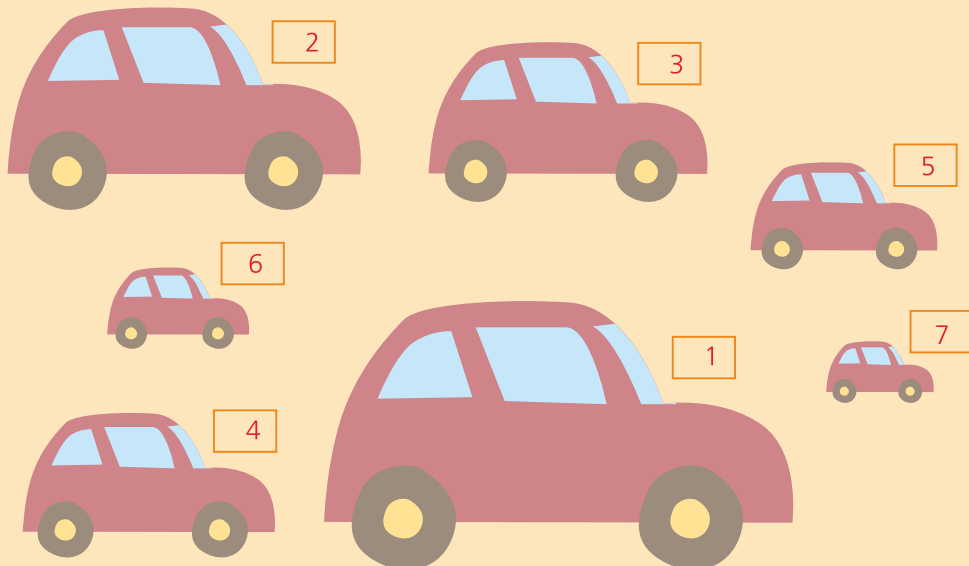
...y a partir de aquí
LAS SOLUCIONES





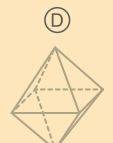
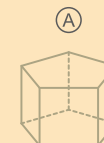
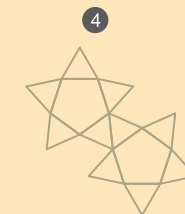
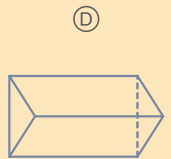
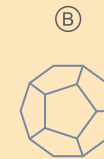
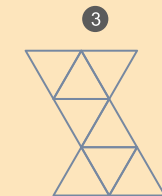
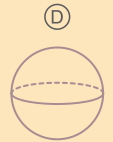
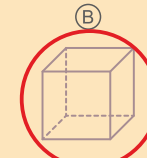
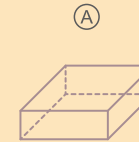
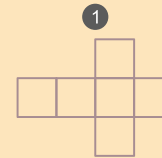
No es casualidad que los pilotos o los arquitectos tengan mejor orientación espacial que nadie: han trabajado esta habilidad durante toda su vida. Es por ello que no hay mapa, manual de instrucciones o nuevo artilugio que se les resista. Pero, lo dicho, es una cuestión de práctica...

01 Empieza a practicar ordenando estas figuras de mayor a menor.



02

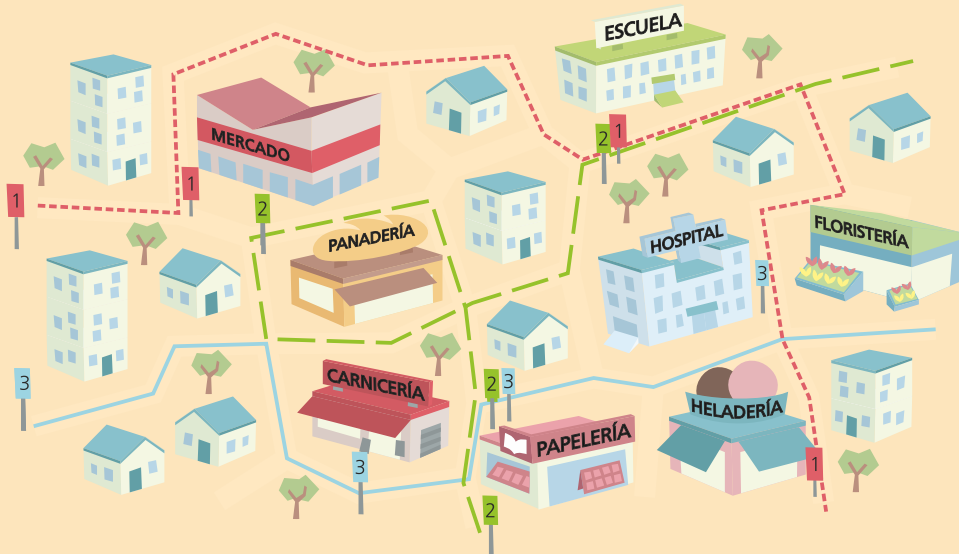
Vamos a subir un poco el nivel. Observa cada figura desplegada de la izquierda ¿A cuál de las 4 figuras geométricas de la derecha se corresponden?



“La vida empieza a los 50, lo anterior es sólo práctica”

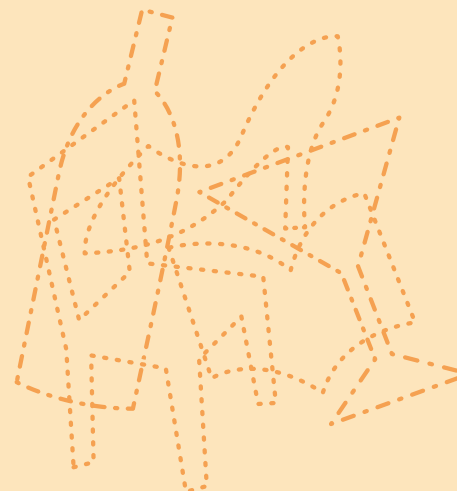
Anónimo

03 Observa el recorrido de las tres líneas de bus y completa las afirmaciones.



- Las líneas que paran en el hospital son: **azul (3)**
- Desde el mercado cuenta las paradas que tienes que pasar hasta llegar a la heladería si vas en la línea roja. **1 (Escuela)**
- Estoy en la heladería, debo coger la línea de color **roja (1)** para llegar al mercado.
- Desde la escuela necesito llegar a la línea azul, puedo llegar con las líneas **roja (1) o verde (2)**
- Cogeré la línea **verde (2)** para llegar hasta la carnicería desde la escuela.
- Número de paradas que debo pasar en la línea azul si subo en la carnicería y bajo en la floristería. **1**
- La línea verde coincide con la línea **azul (3)** al pasar por detrás de la papelería.

04 Observa, identifica y escribe los objetos que están en esta imagen.



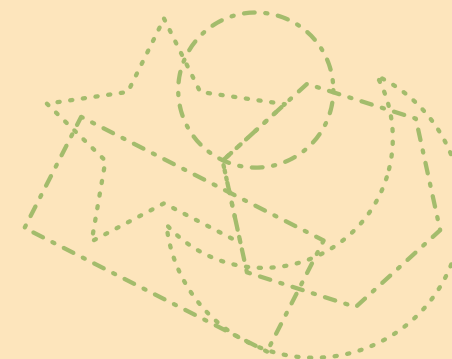
Botella

Zapato de tacón

Copa

Silla

Libro



Estrella

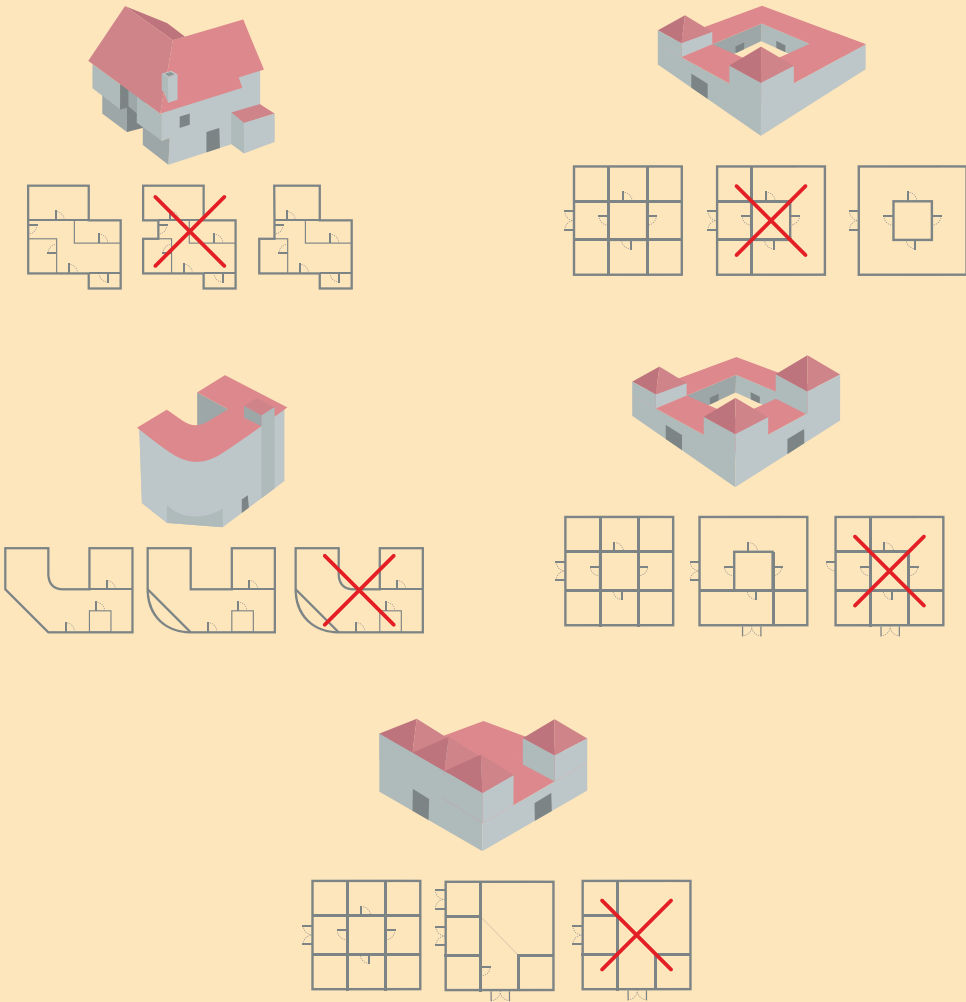
Círculo

Luna

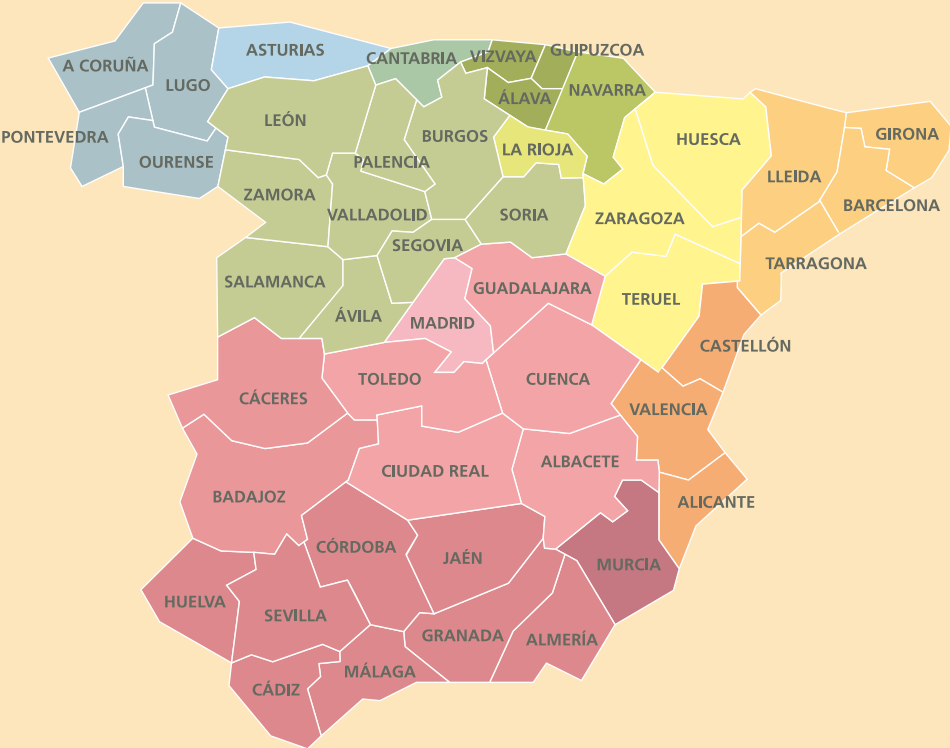
Hexágono

Rectángulo

05 Tacha el plano que crees que representa cada una de las siguientes viviendas.



06 Observa el mapa de España y responde las preguntas:



- ¿Qué provincia está al sureste de Cuenca? Valencia
- ¿Qué provincia está al noreste de Tarragona? Barcelona
- ¿Qué provincia está más al oeste? A Coruña
- ¿Qué provincia está al norte de Ciudad Real? Toledo
- ¿Qué provincia está al sur de la provincia que está al este de Madrid? Cuenca